



Colegio tecnológico pulmahue
Educatora: Angélica Valenzuela
Correo: angelica.valenzuela.a28@mail.com

Guía de trabajo N°15 Matemáticas

Nombre: _____

HABILIDADES A EVALUAR:

01. Reconocer números
02. Conocer los números del 20 al 30
03. Graficar los números según corresponde

OBJETIVOS:

N°6

Emplear los números, para contar, identificar, cuantificar y comparar cantidades.

Semana 19 al 23 de Octubre

**Vamos a pintar y reconocer números hasta el 6.
Colorear la imagen según corresponde color y número.**

$$4 \bigcirc 3 = 7$$

$$1 \bigcirc 8 = 9$$

$$6 \bigcirc 2 = 4$$

$$5 \bigcirc 1 = 6$$

$$8 \bigcirc 4 = 4$$

$$7 \bigcirc 2 = 5$$



Colegio tecnológico pulmahue
Educatora: Angélica Valenzuela
Correo: angelica.valenzuela.a28@mail.com

Semana 5 al 9 de Octubre.

Contar del 1 al 20 y luego rellenar los espacios hasta el 30, con los números presentados en el recuadro.

LOS NÚMEROS

20 - 21 - 22 - 23 - 24 - 25 -
26 - 27 - 28 - 29 - 30.



ESCOGE EL NÚMERO QUE
FALTA

1		3	4		6		8		10
---	--	---	---	--	---	--	---	--	----

	12		14	15		17			20
--	----	--	----	----	--	----	--	--	----


21		23	24		26		28		30
----	--	----	----	--	----	--	----	--	----




Colegio tecnológico pulmahue
Educatora: Angélica Valenzuela
Correo: angelica.valenzuela.a28@mail.com


Semana 19 al 23 de Octubre.

En compañía de un adulto, leer el problema, poner los números en los casilleros correspondientes y luego realizar la operación.



Había 7 zanahorias, pero el conejito ha cogido 2. ¿Cuántas quedan?

Antes había 

El conejito ha cogido 

Elige la operación: Sumar Restar

= zanahorias

Quedan 

